

السؤال الأول

(لكل سؤال خمس درجات)

(أ) أمامك خريطة صماء لمصر اكتب مدلولات الأرقام التالية:



١- القناطر.....

٢- منخفض.....

٣- بحيرة.....

(ب) ما المقصود بالمفاهيم التالية : ١- احتلال.

٢- العثمانيون.

السؤال الثاني أكمل العبارات التالية بكلمات مناسبة :

(أ) قسم (محمد علي) البلاد إلىمديريات.

(ب) المناطق..... لا توجد بها زراعة بالدلتا.

(ج) من الأسباب العلنة للحملة الفرنسية على مصر تأديب

(د) اتجه السلطان في غزواته نحو المشرق العربي .

(هـ) لجأ كثير من الشباب إلى الهجرة بسبب انتشار.....

السؤال الثالث اكتب كلمة (صح) أمام العبارة الصحيحة وكلمة (خطأ) أمام العبارة غير الصحيحة:

(أ) توجد حدود فاصلة بين البيئات المصرية. ()

(ب) أنشا (محمد علي) قصر الجوهرة بالقلعة . ()

(ج) من مشكلات البيئة الزراعية البطالة والامية . ()

(د) اكتشف البريطانيون طريق رأس الرجاء الصالح . ()

(هـ) تتنوع الصناعات بتنوع المواد الخام . ()

السؤال الرابع اختر الإجابة الصحيحة مما بين الأقواس وأكمل العبارات التالية :

(أ) تولى الخديوي حكم مصر ١٨٦٣م . (عباس - سعيد - إسماعيل - توفيق)

(ب) تعد صناعة العطور من الصناعات (الكيمائية - الكهربائية - المعدنية - الغذائية)

(ج) تحطم الأسطول الفرنسي في موقعة (أبي قير البحرية - ديو البحرية - طولون - عكا)

(د) كل ما يلي من العوامل الطبيعية لقيام الصناعة ماعدا.....

(المواد الخام - الظروف المناخية - السوق - مصادر الطاقة)

(هـ) أنشا (محمد علي) ترسانة لبناء السفن في (بور سعيد - السويس - الإسكندرية - دمياط)

السؤال الخامس (أ) رتب الأحداث التاريخية التالية ترتيباً تصاعدياً:

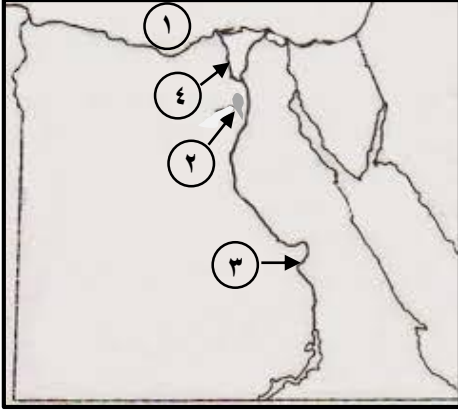
١- دخول العثمانيون القاهرة . ٢- تولية (محمد علي) حكم مصر .

٣- قيادة مينو للحملة الفرنسية . ٤- إبحار الحملة الفرنسية من ميناء طولون .

(ب) بم تفسر : عدم صلاحية الأطراف الشمالية من الدلتا للزراعة .



(لكل سؤال ٥ درجات)

أولاً : الجغرافياالسؤال الأول :

(أ) أمامك خريطة صماء لمصر اكتب مدلول الأرقام الموقعة عليها :

- ١- البحر
٢- منخفض زراعى
٣- قناطر
٤- فرع

(ب) أكمل العبارات الآتية بكلمات مناسبة :

- ١- يعتمد الإنسان فى البيئة الزراعية بالوادي والدلتا ومنخفض الفيوم على مياه فى حين يعتمد فى الواحات على مياه
٢- يجب أن تكون المصانع قريبة من مصادر المواد
٣- يتميز مناخ البيئة الزراعية فى مصر بأنه صيفاً و شتاءً

السؤال الثانى : (أ) اكتب ما تشير إليه كل عبارة من العبارات الآتية :

- ١- أرض مستوية تتكون على جانبي النهر نتيجة الرواسب الطينية التي ينقلها نهر النيل من منابعه . []
٢- الإفراط وسوء استخدام الموارد الطبيعية بشكل يودى إلى نفاذها . []
٣- قناة يتم حفرها عند منسوب أقل من منسوب الترع والأراضى الزراعية لصرف المياه الزائدة عن التربة. []

(ب) ما النتائج المترتبة على كل من :

- ١- استخدام الأسمدة الكيميائية بكثرة فى تسميد التربة .
٢- تنوع البنات المصرية .

السؤال الثالث : اكتب كلمة (صح) أمام العبارة الصحيحة وكلمة (خطأ) أمام العبارة الخاطئة فيما يأتي :

- ١- من المشكلات التي تواجه الصناعة في مصر نقص الكوادر الفنية . ()
٢- يعتمد نشاط صيد الأسماك في البيئة الزراعية على مصائد نهر النيل والترع . ()
٣- الزواج المبكر من العادات الإيجابية لسكان البيئة الزراعية . ()

ثانياً : التاريخالسؤال الرابع : (أ) اختر الإجابة الصحيحة مما بين القوسين فيما يأتي :

- ١- تولى المماليك حكم البلاد عقب انهيار الدولة [الفاطمية - الأيوبية - العباسية]
٢- تولى الخديوى حكم مصر عام ١٨٦٣م [عباس - سعيد - إسماعيل]
٣- قاد الحملة الفرنسية على مصر [مينو - نابليون بونابرت - كليبر]

(ب) بم تفسر ؟

- ١- اهتمام (محمد على) بالتنظيم الإدارى فى مصر .
٢- هزيمة القوات الإنجليزية فى رشيد .

السؤال الخامس : (أ) رتب الأحداث التاريخية التالية ترتيباً تصاعدياً :

- تولية (محمد على) حكم مصر .
- قيادة مينو للحملة الفرنسية .
- أصبحت مصر ولاية عثمانية .
- إبحار الحملة الفرنسية من ميناء طولون إلى مصر .

(ب) ما المقصود بالمفاهيم الآتية : ١- احتلال ٢- ثورة

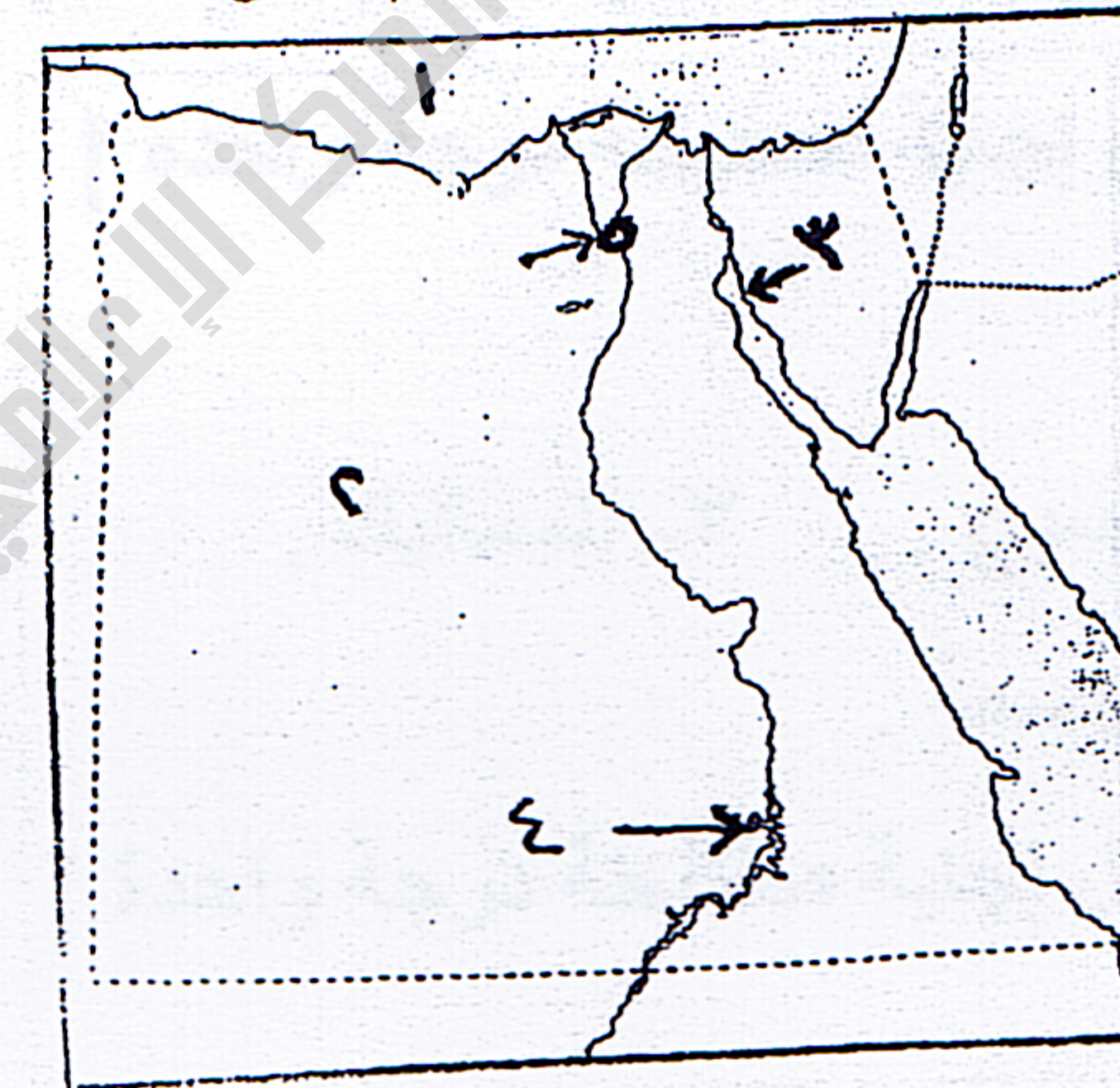


الفصل الدراسي الأول المادة : الدراسات الاجتماعية الزمن : ساعة ونصف

أجب عن الأسئلة الآتية :- [٥ درجات لكل سؤال]

السؤال الأول :-

أمامك خريطة صماء لجمهورية مصر العربية . اكتب مدلول الأرقام التي عليها



١- البحر

٢- الصحراء

٣- خليج

٤- بحيرة

٥- القناطر

السؤال الثاني :-

أكمل الفراغات في العبارات الآتية بكلمات صحيحة :-

١- تظهر حول أطراف المدن وهي بنيت بدون تخطيط الدولة .
٢- من أنواع الصناعات صناعة وتقوم عليها صناعة الملابس الجاهزة والمفروشات .

٣- من الأسباب المعلنة للحملة الفرنسية على مصر تأديب

٤- تخلص " محمد علي " من المماليك في شهر ١٨١١م .

٥- يظهر السطح في منخفض الفيوم على شكل

السؤال الثالث :-

اكتب كلمة (صواب) أمام العبارة الصحيحة وكلمة (خطأ) أمام العبارة غير الصحيحة :-

١- الصناعة تؤدي إلى ارتفاع المستوى الاجتماعي والتعليمي والثقافي للسكان . ()

٢- توجد حدود فاصلة بين البيئات المصرية . ()

٣- استولت الحملة الفرنسية على جزيرة " كريت " ثم " مالطة " . ()

٤- فرضت الدولة العثمانية سيطرتها على مصر عام ١٥١٧م . ()

٥- كان للزعامة الشعبية والعلماء دور مهم في تولية محمد علي الحكم . ()

السؤال الرابع :- بم تفسر :-

١- الاهتمام بالتعليم الفني والصناعي .

٢- عدم صلاحية الأطراف الشمالية من الدلتا للزراعة .

٣- ازدهار الدولة المملوكية .

٤- هدف الدولة من إنشاء المناطق الصناعية . [يكفي بذكر اثنين]

٥- قيام ثورة " القاهرة الثانية " .

السؤال الخامس :-

١- اختر الإجابة الصحيحة مما بين القوسين فيما يأتي :-

١- تولى الخديو حكم مصر عام ١٨٦٣م .

(عباس - إسماعيل - توفيق)

٢- أرسلت إنجلترا حملة إلى مصر عام ١٨٠٧م بقيادة

(مينو - نابليون - فريزر)

٣- من مناطق الجذب السياحي في البيئة الزراعية

(جبل موسى - تل بسطة - العاشر من رمضان)

ب - اكتب المصطلح العلمي الدال على العبارة الآتية :-

انتقال الأفراد من مكان إلى مكان داخل أو خارج الدولة .

ج - ما النتيجة المترتبة على : تجريف الأرض الزراعية ؟

الزمن : ساعة ونصف

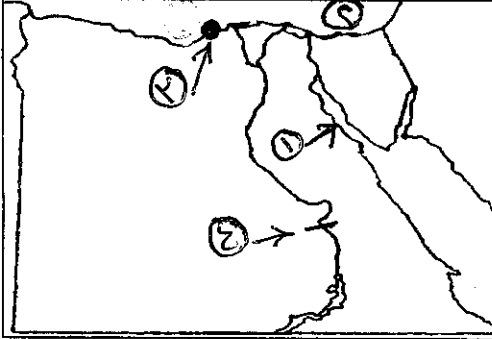
الدراسات الاجتماعية

الفصل الدراسي الأول

[خمس درجات]

السؤال الأول :

(أ) أمامك خريطة صماء لصر اكتب مدلولات الأرقام عليها :



١- خليج

٢- البحر

٣- مدينة ساحلية استولت عليها حملة فريزر

٤- قناطر على مجرى النيل

(ب) اختر الإجابة الصحيحة مما بين القوسين :

- ١- عاد نابليون بونابرت سراً إلى فرنسا وعين قائداً للحمله. (خورشيد باشا - كليبر - مينو)
- ٢- توجد الزراعة المروية بمياه النيل في مصر في (الصحراء الغربية - شبه جزيرة سيناء - الدلتا)
- ٣- تضم محافظة الفيوم معالم سياحية منها (بحيرة قارون - معبد أبو سمبل - هرم خوفو)

[خمس درجات]

السؤال الثاني :

ضع علامة (✓) أمام العبارة الصحيحة وعلامة (×) أمام العبارة الخطأ مع تصويب الخطأ وذكر السبب في الصح :

- ١- إهتم محمد علي بإحياء الأسطول الحربي. ()
- ٢- كانت مدة حكم الوالي تتراوح بين عام وخمسة أعوام. ()
- ٣- من النتائج العلمية للحملة الفرنسية إيقاظ الوعي القومي لدى المصريين. ()
- ٤- يتصل منخفض الفيوم بنهر النيل عن طريق ترعة المحمودية. ()
- ٥- يعمل معظم سكان البيئة الزراعية بالنشاط الزراعي. ()

[سبع درجات ونصف]

السؤال الثالث :

(أ) بم تفسر :

- ١- يجب عند إقامة المصانع مراعاة إتجاهات الرياح.
- ٢- تعرضت دولة المماليك للضعف والإنهيار.
- ٣- أسباب التلوث البيئي.

٣- السوق المحلية.

٢- السد.

(ب) ماذا يقصد بـ : ١- إحتلال.

[سبع درجات ونصف]

السؤال الرابع :

(أ) ما النتائج التي ترقبت على :

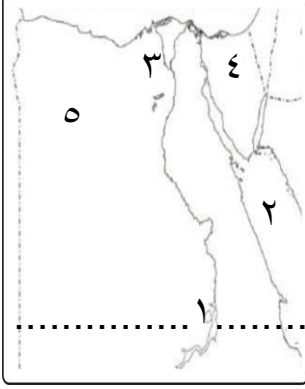
- ١- المشكلات الاقتصادية التي يعانيها سكان البيئة الزراعية.
- ٢- إنتصار العثمانيون على المماليك في معركة الريدانية.
- ٣- إهمال العثمانيون للزراعة والصناعة والتجارة.

(ب) برهن على صحة العبارات الآتية :

- ١- يرجع تاريخ نشأة الصناعة إلى عهد الحضارة المصرية القديمة.
- ٢- طمع الإنجليز في بسط نفوذهم على مصر بعد جلاء الحملة الفرنسية.
- ٣- إهتم محمد علي بتطوير وتنمية الزراعة في مصر.

أولاً : الجغرافيا

السؤال الأول: - أ) أمامك خريطة صماء لجمهورية مصر ، اكتب ما تشير إليه الأرقام الموضحة عليها :



(٢٥ / ٥)

- ١- السد
 - ٢- البحر
 - ٣- دلتا
 - ٤- شبه جزيرة
 - ٥- بيئة
- (ب) بم تفسر :

- ١- المشكلات التي تواجه الصناعة في مصر.
- ٢- زيادة معدل نمو السكان في البيئة الزراعية.

السؤال الثاني: - أ) ضع علامة (✓) أمام العبارة الصحيحة وعلامة (x) أمام العبارة الخاطئة :

- ١- تتميز البيئة في مصر بالتنوع والتكامل. ()
 - ٢- تقوم الزراعة على السواحل الشمالية لمصر على مياه الآبار. ()
 - ٣- يقل عدد السكان في البيئة الزراعية عن البيئة الصناعية. ()
 - ٤- من المحاصيل الزراعية في مصر القطن ويدخل في صناعة المنسوجات. ()
 - ٥- المواد الخام من العوامل الطبيعية لقيام الصناعة. ()
- (ب) ما النتائج المترتبة على.....؟
- ١- استخدام الأسمدة الكيماوية بكثرة في تسميد التربة.
 - ٢- اهتمام الدولة بتربية الثروة الحيوانية.

(٢٥ / ٨)

ثانياً: التاريخ

السؤال الأول: - أ) أكمل العبارات التالية بما يناسبها من كلمات :

- ١- فتح السلطان العثماني القسطنطينية عاصمة الدولة البيزنطية عام ١٤٥٣م.
- ٢- انتصر السلطان سليم الأول على المماليك في عام ١٥١٧م عند
- ٣- تحطم الأسطول الفرنسي في موقعه ١٧٩٨م.
- ٤- قامت ثورة القاهرة بزعامة..... في مارس ١٨٠٠م.
- ٥- تخلص محمد علي من المماليك في ١٨١١م.

السؤال الثاني: - أ) اختر الإجابة الصحيحة من بين الأقواس:

- ١- كانت مصر قبل السيطرة العثمانية تحت حكم { إنجلترا - المماليك - فرنسا }
- ٢- كان قائد الحملة الفرنسية على مصر ١٧٩٨م { مينو - كليبر - نابليون }
- ٣- اكتشف طريق رأس الرجاء الصالح ١٤٩٨م { المماليك - البرتغاليون - العثمانيون }
- ٤- اجتمع زعماء الشعب والعلماء في دار المحكمة لعزل (ب) ما المقصود بـ: ١- الوالي ٢- الاحتلال

الأزهر الشريف
الإدارة المركزية لمنطقة السويس الأزهرية
نموذج إجابة امتحان الدراسات الاجتماعية للشهادة الابتدائية الفصل الدراسي الأول
لعام (١٤٣٩/١٤٤٠هـ - ٢٠١٨/٢٠١٩م)

أولاً: الجغرافيا

- إجابة السؤال الأول:- (أ) الخريطة الصماء: (٢٥/٥)
- ١- السد العالي (نصف درجة) ٢- البحر الأحمر (نصف درجة) ٣- دلتا النيل (نصف درجة)
٤- شبه جزيرة سيناء (نصف درجة) ٥- بيئة صحراوية (نصف درجة)
- (ب) بم تفسر: (١) المشكلات التي تواجه الصناعة في مصر (درجة ونصف)
- ١- ارتفاع أسعار المواد الخام ومستلزمات الإنتاج. ٢- نقص الكوادر الفنية.
٣- التكلفة الزائدة لمصادر الطاقة. ٤- التهرب الجمركي.
٥- انخفاض جودة المنتجات الصناعية. ٦- قلة رؤوس الأموال على الاستثمار الصناعي.
- (٢) زيادة معدل نمو السكان في البيئة الزراعية بمصر (درجة واحدة)
- ١- الزواج المبكر للإناث ٢- تعدد الزوجات
٣- الحرص على إنجاب أكبر عدد من الأطفال ٤- انتشار الأمية

إجابة السؤال الثاني:- (أ) ضع علامة (√) و علامة (×)

- ١- √ (درجة) ٢- × (درجة) ٣- × (درجة) ٤- √ (درجة) ٥- √ (درجة)
- (ب) النتائج المترتبة على

- ١- استخدام الأسمدة الكيماوية في تسميد التربة
١- انتشار التلوث في البيئة ٢- انتشار الأمراض ٣- تلوث الغذاء
٢- اهتمام الدولة بتربية الثروة الحيوانية
١- سد حاجة السكان من اللحوم ٢- قيام كثير من الصناعات مثل : الجلود ، الألبان

ثانياً: التاريخ

إجابة السؤال الأول:- أكمل العبارات التالية (٢٥/٥) (لكل فقرة درجة)

- ١- محمد الفاتح ٢- الريدانية ٣- أبى قير البحرية
٤- عمر مكرم ٥- مذبحه القلعة

إجابة السؤال الثاني:- (أ) اختر الإجابة الصحيحة (٢٥/٧)

- ١- المماليك (درجة) ٢- نابليون (درجة) ٣- البرتغاليون (درجة) ٤- خورشيد باشا (درجة)
(ب) المقصود بـ : ١- الوالى: هو نائب السلطان (درجة ونصف)
٢- الاحتلال: هو استيلاء دولة لبلد أخرى قهراً (درجة ونصف)

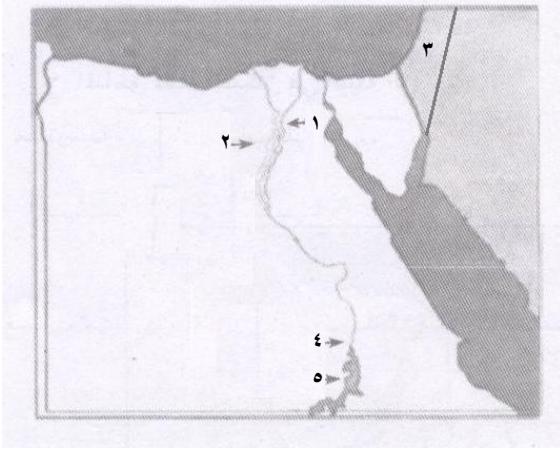
امتحان إتمام المرحلة الابتدائية الأزهرية
للعام الدراسي (١٤٣٩/١٤٤٠هـ) - (٢٠١٨/٢٠١٩م).

الزمن : ساعة ونصف

المادة : الدراسات الاجتماعية

الفصل الدراسي الأول

أجب عن الأسئلة الآتية في كراسة إجابتك:



أولاً: الجغرافيا

السؤال الأول : أمامك خريطة صماء لمصر اكتب مدلول الأرقام
الموضحة عليها:
(٢٥-٥)

- ١- القناطر :
- ٢- منخفض :
- ٣- دولة :
- ٤- السد :
- ٥- بحيرة :

السؤال الثاني : (أ) ضع علامة (✓) أمام العبارة الصحيحة وعلامة (X) أمام العبارة غير الصحيحة فيما يلي: (٢٥-٨)

- ١- توفر البيئة الزراعية للبيئة الصناعية المواد الخام. ()
- ٢- الاستنزاف يعني تقليل الاستهلاك والاستخدام الأمثل للموارد. ()
- ٣- توجد آثار حضارة تل بسطة بمحافظة الشرقية. ()
- ٤- يتصل منخفض الفيوم بنهر النيل عن طريق بحر موسى. ()

(ب) بيم تفسر.....؟

- ١- اهتمام الدولة بإقامة وإنشاء مناطق صناعية جديدة.
- ٢- أنشأت الدولة وزارة البيئة.

ثانياً: التاريخ

السؤال الثالث : اختر الإجابة الصحيحة مما بين الأقواس : (٢٥-٥)

- ١- فتحت القسطنطينية في عهد السلطان محمد الثاني عام م. (١٥١٧ - ١٤٥٣ - ١٩٥٢)
- ٢- طريق رأس الرجاء الصالح يدور حول قارة (أفريقيا - آسيا - أوروبا)
- ٣- تحطم الأسطول الفرنسي في موقعة (مرج دابق - الريدانية - أبي قير البحرية)
- ٤- مقتل كليبر على يد سليمان الحلبي في يونيو م. (١٩٠٠ - ١٨٠٠ - ٢٠٠٠)
- ٥- أنشأ محمد علي ترسانة لبناء السفن في مدينة (الإسكندرية - الزقازيق - بور سعيد)

السؤال الرابع : (أ) أكمل العبارات التالية بكلمات مناسبة : (٢٥-٧)

- ١- قاوم حاكم الإسكندرية الحملة الفرنسية.
- ٢- تخلص محمد علي من المماليك في سنة ١٨١١م.
- ٣- رحلت الحملة الفرنسية عن مصر سنة م.
- ٤- كان يدعو الديوان للانعقاد.

(ب) ما النتائج المترتبة على....؟ :-

- ١- موقعة الريدانية سنة ١٥١٧م..
- ٢- اكتشاف حجر رشيد.

(لكل سؤال خمس درجات)

السؤال الأول =

أ) أمامك خريطة صماء لمصر

اكتب مدلول الأرقام الموقعة عليها :-

١- دولة

٢- البحر

٣- خليج

٤- الصحراء

ب) اذكر عملاً واحداً لكل من:

١- عمر مكرم . ٢- كليبر . ٣- سعيد باشا .



السؤال الثاني : أكمل العبارات الآتية بوضع الكلمة المناسبة :

(أ) انخفاض مستوى الدخل من الخصائص لسكان البيئة الزراعية .

(ب) تربة وادي النيل ودلتاه ومنخفض الفيوم تربة

(ج) من الأسباب المعنونة للحملة الفرنسية على مصر تأديب

(د) تخلص (محمد علي) من المماليك في سنة ١٨١١ م .

(هـ) من أنواع الصناعات صناعة وتقوم عليها الملابس الجاهزة والمفروشات .

السؤال الثالث :

ضع علامة (✓) أمام العبارة الصحيحة وعلامة (x) أمام العبارة غير الصحيحة :-

(أ) أصبحت مدينة الإسكندرية مقر الحكومة المركزية في عصر (محمد علي) . ()

(ب) تولى (محمد علي) حكم مصر في مايو سنة ١٨٠٥ م . ()

(ج) الزواج المبكر من العادات الإيجابية لسكان البيئة الزراعية . ()

(د) الانفتاح على العالم الخارجي يشجع على الاستثمار في مجال الصناعة . ()

(هـ) من النتائج الاجتماعية للحملة الفرنسية تأليف كتاب وصف مصر . ()

السؤال الرابع : اختر الإجابة الصحيحة مما بين القوسين :-

(أ) أنشأ (محمد علي) ترسانة لبناء السفن في (بورسعيد - السويس - الإسماعيلية - الإسكندرية)

(ب) هزمت الجيوش المملوكية بقيادة السلطان في معركة الريدانية .

(ج) صناعة الأسمدة والأدوية من الصناعات (الكيماوية - الهندسية - المعدنية - الغذائية)

(د) كل ما يلي من العوامل الطبيعية للصناعات ما عدا (المواد الخام - الظروف المناخية - السوق - مصادر الطاقة)

(هـ) اجتمع زعماء الشعب والعلماء في دار الحكمة وقرروا عزل (محمد علي - خورشيد باشا - إبراهيم باشا - سليم الأول)

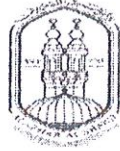
السؤال الخامس : (أ) بم تفسر:

١- ندرة الحيوانات والنباتات الطبيعية في البيئة الزراعية .

٢- الاهتمام بالتعليم الفني والصناعي .

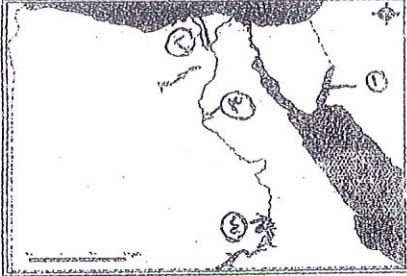
(ب) ما النتائج المترتبة على: ١- الحكم العثماني في مصر من الناحية الاجتماعية .

٢- سياسة محمد علي الخارجية التوسعية .



أجب عن الأسئلة الآتية :

السؤال الأول :



(أ) أمامك خريطة صماء لمصر اكتب مدلول الأرقام التي عليها :

- ١- خليج
- ٢- ترعة غرب الدلتا
- ٣- قناطر
- ٤- السد

(ب) ما المقصود بالمفاهيم الآتية ؟

- ١- العثمانيون
- ٢- مستعمرة

(٥ - ٢٥)

٣- الاستنزاف

السؤال الثاني :

(أ) أكمل العبارات التالية بكلمات مناسبة :

- ١- توجد البيئة الزراعية المروية بمياه النيل في ثلاث مناطق منها
- ٢- تعد صناعة السكر من الصناعات بينما صناعة الألمنيوم من الصناعات
- ٣- قسم (محمد علي) البلاد إلى مديريات ويتبع كل مديرية عدد من

(ب) رتب الأحداث التاريخية التالية من الأقدم إلى الأحدث :

- ١- حملة فريزر
- ٢- موقعة الريدانية
- ٣- اتفاقية العريش
- ٤- فتح القسطنطينية

(٥ - ٢٥)

السؤال الثالث :

ضع علامة (✓) أمام العبارة الصحيحة ، وعلامة (×) أمام العبارة الخطأ ، فيما يأتي :

- أ - توجد حدود فاصلة بين البيئات المصرية . ()
- ب - قام السلطان سليم الأول بترحيل أمهر الصناع والحرفيين إلى الآستانة . ()
- ج - الصناعة تؤدي إلى ارتفاع المستوى الاجتماعي والتعليمي والثقافي لسكان مصر . ()
- د - استولت الحملة الفرنسية على جزيرة كريت ثم مالطة . ()

(٦ - ٢٥)

السؤال الرابع : اختر الإجابة الصحيحة مما بين الأقواس فيما يلي :

- أ - تقوم الزراعة المطرية على مياه الأمطار (الدائمة - الصيفية - الشتوية)
- ب - توجد بمحافظة مناطق آثار وحضارة (تل بسطة) . (الشرقية - الأقصر - الفيوم)
- ج - تمكن ... قائد الأسطول الإنجليزي من تدمير الأسطول الفرنسي في موقعة أبي قير البحرية . (ديبوي - نلسون - مينو)
- د - تولى الخديو حكم مصر عام ١٨٦٣ م . (عباس - سعيد - إسماعيل)

(٦ - ٢٥)

السؤال الخامس : يم تفسر ؟

أ - فشل الحملة الفرنسية على الشام .

ب - أنشأت الدولة وزارة البيئة .

(٣ - ٢٥)

واته ولي التوفيق



الفصل الدراسي الأول المادة : الدراسات الاجتماعية

{ لكل سؤال

أجب عن الأسئلة الآتية:-

خمس درجات }

السؤال الأول: أكمل العبارات الآتية بكلمات مناسبة:-

- ١) توجد الزراعة المروية بمياه النيل بمصر في مناطق
- ٢) تتميز تربة وادي النيل ودلتاه ومنخفض الفيوم بأنها تربة
- ٣) كانت مصر قبل مجيء العثمانيين تحت حكم
- ٤) أبحرت الحملة الفرنسية من ميناء
- ٥) اهتم " محمد علي " بشق الترع و ، وإنشاء على النيل .

السؤال الثاني: اكتب المصطلح العلمي الدال على كل عبارة من العبارات الآتية:-

- ١) زراعة الأرض وإنتاج المحاصيل وتربية الحيوانات والدواجن . ()
- ٢) استخدام الإنسان للموارد المتاحة لسد احتياجاته من مأكّل ومشرب وملبس . ()
- ٣) ثورة قامت بسبب الإجراءات التي اتخذها " كليبر " ضد أهل القاهرة . ()
- ٤) يتميز باعتداله بصورة عامة في مصر مع ارتفاع درجة الحرارة صيفاً ، واعتدالها شتاءً . ()
- ٥) حملة عسكرية تم إرسالها إلى مصر في مارس (١٨٠٧ م) واستولت على الإسكندرية . ()

السؤال الثالث: (٨) بم تفسر ... ؟

- ١) ازدهار دولة المماليك في مصر والشام . (٢) إنشاء وزارة البيئة في مصر .
- ب) ما النتائج المترتبة على ... ؟
- ١) تراجع المساحة الزراعية في الدلتا . (٢) تنوع البيئات المصرية .
- ٣) اكتشاف حجر رشيد .

السؤال الرابع: انقل الجمل الآتية إلى ورقة إجابتك ثم اكتب كلمة (صواب) أمام العبارة الصحيحة أو كلمة (خطأ) أمام العبارة الخاطئة:-

- ١) تُعد البطالة من المشكلات الاقتصادية لسكان البيئة الزراعية . ()
- ٢) حققت الحملة الفرنسية أهدافها التي جاءت من أجلها إلى مصر . ()
- ٣) يُعد التهرب الجمركي من المشكلات التي تواجه الصناعة في مصر . ()
- ٤) من الأسباب الحقيقية غير المُعلنة للحملة الفرنسية إقامة مستعمرة فرنسية في الشرق . ()
- ٥) ازدهار الحياة الفنية في مصر أثناء الحكم العثماني . ()

السؤال الخامس: (٨) أمامك خريطة لمصر ، اكتب مدلول الأرقام التي عليها في ورقة إجابتك:

- ١) مدينة صناعية (٢) نهر
- ٣) خليج (٤) البحر
- ب) اكتب التعريف الصحيح للمفاهيم الآتية:-
- ١) البيئة الصناعية . (٢) الديوان

٣) السوق المحلية . انتهت الأسئلة ،، مع تمنياتنا لكم بالتوفيق والنجاح ،،،،،،،،،،

الأزهر الشريف

الإدارة المركزية لمنطقة المنيا الأزهرية

امتحان الشهادة الابتدائية للسنة الدراسية (١٤٣٩ / ١٤٤٠ هـ - ٢٠١٨ / ٢٠١٩ م)

الزمن : ساعة ونصف

(الدراسات الاجتماعية)

الفصل الدراسي الأول

(لكل سؤال خمس درجات)

أجب عن الأسئلة الآتية :-

السؤال الأول : أمامك خريطة لمصر وضع مدلول الأرقام عليها :-

- ١ - القناطر
- ٢ - البحر
- ٣ - قناطر
- ٤ - منخفض
- ٥ - البحر

السؤال الثاني : (أ) اختر الإجابة الصحيحة مما بين القوسين :-

- ١ - السجاد اليدوي من الصناعات (البسيطة - الحديثة - الحرفية) .
- ٢ - من الترع في غرب الدلتا ترعة (الإسماعيلية - النوبارية - الإبراهيمية) .
- ٣ - من العوامل الطبيعية لقيام الصناعة (المواد الخام - السوق - رأس المال) .

(ب) بم تفسر ؟

- ١ - تكامل البيئات المصرية .
- ٢ - تناقص مساحة الأراضي الزراعية في مصر .

السؤال الثالث : من هو ؟

- ١ - نائب السلطان ومقره القلعة ومدة حكمه من سنة إلى ثلاث سنوات .
- ٢ - قائد الأسطول الإنجليزي الذي حطم الأسطول الفرنسي في معركة أبي قير البحرية أغسطس ١٧٩٨ م .
- ٣ - مهندس فرنسي حصل من سعيد باشا على امتياز حفر قناة السويس في نوفمبر ١٨٥٤ م .
- ٤ - أقدم ضباط الحملة الفرنسية تولى قيادة الحملة بعد مقتل كليبر .
- ٥ - قائد المماليك في معركة الريدانية ١٥١٧ م .

السؤال الرابع : ضع علامة (√) أمام العبارة الصحيحة ، وعلامة (×) أمام العبارة الخطأ فيما يأتي :-

- ١ - كانت مصر قبيل مجيء العثمانيين تحت الحكم الأيوبي . ()
- ٢ - من الأسباب المعلنة للحملة الفرنسية تأديب المماليك وتحطيم نفوذهم وقوتهم . ()
- ٣ - دبر محمد علي مذبحه القلعة للتخلص من المماليك سنة ١٨١١ م . ()
- ٤ - أنشأ محمد علي العديد من القصور مثل قصر عابدين . ()
- ٥ - تمكنت الحملة الفرنسية من قطع الطريق بين إنجلترا وأكبر مستعمراتها في الهند . ()

السؤال الخامس : أكمل ما يأتي :-

- ١ - أنشأت الدولة وزارة لإصدار القوانين والتشريعات لحماية البيئة من الأخطار .
- ٢ - هي عدم معرفة القراءة والكتابة .
- ٣ - تقوم الزراعة في الساحل الشمالي لمصر اعتمادًا على مياه
- ٤ - في ١٣ مايو ١٨٠٥ قرر زعماء الشعب في دار المحكمة عزل الوالي وتعيين محمد علي واليًا على مصر .
- ٥ - قام السلطان بترحيل أمهر الصناع والحرفيين إلى الأستانة عاصمة الدولة العثمانية .

الأزهر الشريف

الإدارة المركزية لمنطقة المنيا الأزهرية

نموذج إجابة امتحان الشهادة الابتدائية للسنة الدراسية (١٤٣٩/١٤٤٠هـ - ٢٠١٨/٢٠١٩م)
الفصل الدراسي الأول (الدراسات الاجتماعية)

(١ × ٥)

ج ١: الخريطة :-

- ١- القناطر الخيرية.
- ٢- البحر المتوسط.
- ٣- قناطر إسنا.
- ٤- منخفض الفيوم.
- ٥- البحر الأحمر.

(١ × ٣)

ج ٢: (أ) اختر :- ثلاث درجات

- ١- الصناعات الحرفية.
- ٢- النوبارية.
- ٣- المواد الخام.

(١ × ٢)

(ب) بم تفسر :- (درجتان)

- ١- تكامل البيئات مع بعضها البعض فكل بيئة تمد البيئات الأخرى بما تحتاجه من منتجات.
- ٢- بسبب التوسع العمراني وإقامة المباني على الأرض الزراعية - تجريف التربة لصناعة الطوب الأحمر.

(١ × ٥)

ج ٣: من هو :-

- ١- الوالي أو الباشا.
- ٢- نلسون.
- ٣- فرديناند ديليسبس.
- ٤- مينو.
- ٥- طومان باي.

(١ × ٥)

ج ٤: (√) أو (×) :-

- ١- (×).
- ٢- (√).
- ٣- (√).
- ٤- (×).
- ٥- (×).

(١ × ٥)

ج ٥: أكمل :-

- ١- وزارة البيئة.
- ٢- الأمية.
- ٣- الأمطار الشتوية.
- ٤- خورشيد باشا.
- ٥- سليم الأول.

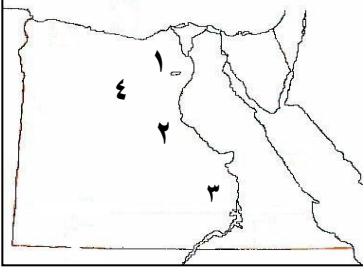
الزمن : ساعة ونصف

الفصل الدراسي الأول

المادة : الدراسات الاجتماعية

[لكل سؤال خمس درجات]

أجب عن الأسئلة التالية :



س١ : (ا) أمامك خريطة صماء لمصر ، اكتب مدلول الأرقام المدونة عليها .

- ١- القناطر
- ٢- ترعة غرب الوادي .
- ٣- السد
- ٤- منخفض

ب) اكتب كلمة (صح) أمام العبارة الصحيحة وكلمة (خطأ) أمام العبارة الخطأ فيما يلي :

- ١- توجد حدود فاصلة بين البيئات المصرية . ()
- ٢- الزواج المبكر للإناث من العادات السلبية لسكان البيئة الزراعية . ()
- ٣- تكثر النباتات الطبيعية في البيئة الزراعية . ()

س٢ : (ا) أكمل العبارات التالية بما يناسبها :

- ١- تظهر الأراضي الزراعية في منخفض الفيوم على شكل
- ٢- تتناقص الأراضي الزراعية بسبب التوسع وتجريف التربة .
- ٣- تظهر حول أطراف المدن وهي بُنيت بدون تخطيط من الدولة .

ب) اذكر اثنين من أهداف الدولة لإنشاء المناطق الصناعية .

س٣ : تخير الإجابة الصحيحة من بين القوسين فيما يلي :-

- ا- من العوامل البشرية لقيام الصناعة (المواد الخام - السوق - مصادر الطاقة)
- ب- تعد صناعة الأسمدة من الصناعات (المعدنية - الكيميائية - الكهربائية)
- ج - دخل العثمانيون القاهرة بعد هزيمة المماليك في موقعة ١٥١٧م (مرج دابق - الريدانية - ديو البحرية)

د- اجتمع زعماء الشعب والعلماء عام ١٨٠٥م وقرروا عزل وتولية محمد علي حكم مصر .

(خورشيد باشا - إبراهيم باشا - طوسون باشا)

ه- أنشأ محمد علي ترسانة لبناء السفن في (بورسعيد - السويس - الإسكندرية)

س٤ : (ا) بم تفسر .. ؟ ١- قيام ثورة القاهرة الأولى . ٢- هزيمة المماليك أمام العثمانيين .

ب) اذكر النتائج العلمية والثقافية للحملة الفرنسية على مصر .

س٥ : (ا) ما المقصود بالمفاهيم التالية :-

- ١- تجريف التربة . ٢- ثورة .

ب) ما النتائج المترتبة على :

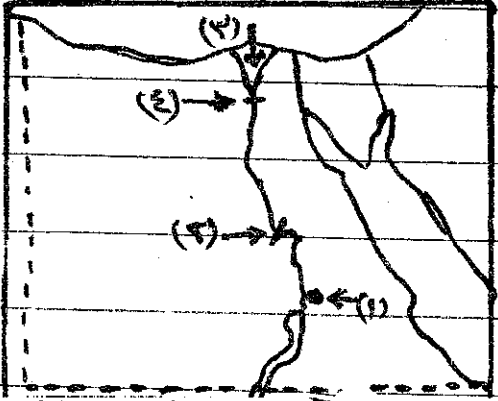
- ١- الإسراف في استخدام مياه الري في الزراعة .
- ٢- اتصال منخفض الفيوم بنهر النيل .

امتحان الشهادة الابتدائية الأزهرية للعام الدراسي ٢٠١٨ / ٢٠١٩

الفصل الدراسي الأول المادة : الدراسات الاجتماعية الزمن : ساعة ونصف

أجب عن الأسئلة الآتية :

(٢٥ - ٥)



(٢٥ - ٥)

- السؤال الأول :
- أ- أمامك خريطة صماء لمصر اكتب مدلول الأرقام الآتية:
- ١- مدينة ٢- مدينة بها صناعة الألمونيوم
- ٣- منطقة زراعية ٤- القناطر
- ب- ماذا يقصد بكل من :
- ١- العثمانيون . ٢- احتلال . ٣- البيئة الزراعية .

السؤال الثاني :

بم تفسر :

- ١- فشل الحملة الفرنسية على الشام .
٢- تعد محافظة الفيوم محافظة جذب سياحي .
٣- اهتمام مصر بزيادة الصادرات من الصناعة .
٤- ندرة الحيوانات والنباتات الطبيعية في البيئة الزراعية .
٥- تدهور الأحوال الاقتصادية لمصر تحت الحكم العثماني .

(٢٥ - ٥)

السؤال الثالث :

اختر الإجابة الصحيحة مما بين القوسين :

- ١- قامت ثورة القاهرة الثانية بزعامة (محمد كريم - سليمان الحلبي - عمر مكرم)
٢- من العوامل البشرية لقيام الصناعة (مصادر الطاقة - رأس المال - الموقع)
٣- تعتمد الزراعة في الواحات على مياه (الآبار والعيون - الأمطار - الأنهار)
٤- قاد الحملة الفرنسية على مصر (مينو - نابليون بونابرت - كليبر)
٥- تم اكتشاف طريق رأس الرجاء الصالح على يد (البريطانيين - الفرنسيين - البرتغاليين)

(٢٥ - ٥)

السؤال الرابع :

ضع علامة (√) أمام العبارة الصحيحة وعلامة (x) أمام العبارة الخاطئة مع تصويب الخطأ فيما يأتي :

- ١- حرم المصريون من خيرات بلادهم في ظل الحكم العثماني ()
٢- من محاصيل الحبوب الغذائية الذرة والأرز والقمح ()
٣- الزواج المبكر من العادات الإيجابية لسكان البيئة الزراعية ()
٤- قاد الجنرال مينو الحملة الفرنسية بعد مقتل كليبر ()
٥- بدأت الصناعة الحديثة في مصر في عهد الملك فاروق ()

(٢٥ - ٥)

السؤال الخامس :

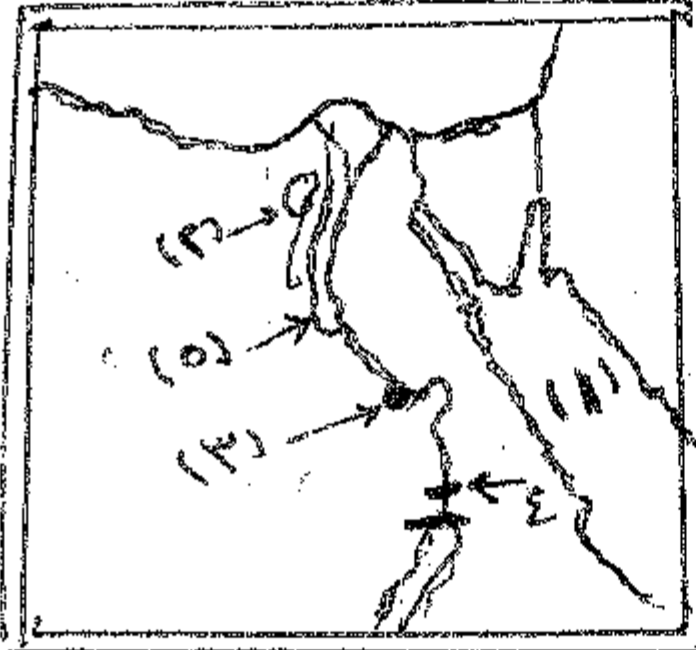
أ- ما النتائج المترتبة على :

- ١- سياسة محمد علي الخارجية التوسعية .
٢- هجرة سكان الريف إلى البيئة الصناعية .
٣- تنوع البيئات المصرية .

ب- رتب الأحداث التالية من الأقدم إلى الأحدث :

- ثورة القاهرة الأولى - معركة مرج دابق - موقعة أبي قير البحرية - تولية محمد علي حكم مصر .

أجب عن الأسئلة الآتية :



(٥ - ٢٥)

السؤال الأول :

أمامك خريطة صماء لمصر .
اكتب ما تدل عليه الأرقام المدونة عليها مما يلي :

- ١ - البحر
- ٢ - منخفض
- ٣ - مدينة لصناعة الألمنيوم .
- ٤ - خزان
- ٥ - ترعة في غرب الوادي .

(٥ - ٢٥)

السؤال الثاني :

أ (ماذا يقصد ب :

- ١ - الاحتلال .
 - ٢ - الوالي .
 - ٣ - ثورة .
 - ٤ - مستعمرة .
- ب) ما هي الأسباب المعلنة للحملة الفرنسية على مصر وبلاد الشام ؟

(٥ - ٢٥)

السؤال الثالث :

ضع علامة (√) أمام العبارة الصحيحة وعلامة (x) أمام العبارة الغير صحيحة مما يلي :

- ١ - قام محمد علي بنفي السيد عمر مكرم خارج مصر . ()
- ٢ - في عام ١٨٠٥م قرر الشعب المصري عزل خورشيد باشا وتولية محمد علي حكم مصر . ()
- ٣ - قامت ثورة القاهرة الأولى في أكتوبر عام ١٧٩٨ بحى بولاق . ()
- ٤ - توفر البيئة الصناعية للبيئة الزراعية الأسمدة والآلات الزراعية . ()
- ٥ - تؤثر الهجرة الداخلية من الريف إلى المدن في ظهور العشوائيات . ()

(٥ - ٢٥)

السؤال الرابع :

أ (رتب الأحداث التاريخية الآتية من القديم إلى الحديث :

- ١ - حملة فريزر على مصر .
- ٢ - مذبحه القلعة .
- ٣ - ثورة القاهرة الثانية .
- ٤ - معركة الريدانية .
- ٥ - اتفاقية العريش .

ب) بم تفسر ما يلي :

- ١ - قيام الدولة بإنشاء المناطق الصناعية .
- ٢ - معدل الزيادة السكانية في البيئة الزراعية مرتفع .

(٥ - ٢٥)

السؤال الخامس :

اختر الإجابة الصحيحة من بين القوسين فيما يأتي :

- ١ - تولى قيادة الحملة الفرنسية بعد نابليون (نسون - كليبر - مينو - فريزر) .
- ٢ - يتصل منخفض (الفيوم - وادي النطرون - القطارة - الفرافرة) بنهر النيل عن طريق بحر يوسف .
- ٣ - من الصناعات الهندسية صناعة (العطور - الأسمدة - أجهزة السيارات - الأسمت) .
- ٤ - بعد إبراهيم باشا تولى حكم مصر (الخديوى إسماعيل - الخديوى توفيق - عباس باشا الأول - سعيد باشا) .
- ٥ - تمدنا البيئة (الزراعية - الصناعية - الصحراوية - الساحلية) بالمعادن المختلفة .

الاذهر الشريف
مطبعة سواد الأهرام
إدارة التعليم الابتدائي

نموذج أحاطة أفتان الشهادة الابتدائية لإزهره
الفصل الأول للعام ١٨-١٩ / ١٩-٢٠
مادة الدراسات الاجتماعية

أحاطة السؤال الأول الخريط لكل ظاهرة > لهم واحدة فقط
١- البراكين ٢- الفيوم ٣- نخج حمادي ٤- اسوان ٥- الابراهيمية

أحاطة السؤال الثاني (٢) لكي تعريف نصف > لهم قوا ١/٢

- ١- الاحتلال استيلاء دولة على دولة آخر قهراً .
- ٢- الوالي هو نائب السلطان العماني في الولاية ومقره القلعة
- ٣- ثورة حركة شعبية شاملة تهدف الى التغيير الجذري الكامل المنظم لارضاع المجتمع
- ٤- مستعمرة اقليم تحت اجنب بتوطئة او كتفضر باستقلالية اقتصادياً او عسكرياً .

به الاسباب المعلنة للحملة الفرنسية تلك درجات

- ١- تأديب المالك وتحطيم قواتهم وتفويضهم ٢- حماية انبار الفرس والرعايا
المصريين ضد اضطهاد المالك ٣- الادعاء بانها حكومة وطنية يكون الحكم قبيل المصريين .

أحاطة السؤال الثالث لكل علامة (١) > لهم علامة (١) > لهم

- ١- (١) ٢- (١) ٣- (١) ٤- (١) ٥- (١)

أحاطة السؤال الرابع ترتيب الاحداث درجاتهم ونصف (١/٢)
١- معركة الريدانية ٢- اتفاقية العريش ٣- ثورة القاهرة الثانية ٤- حملة فريزر ٥- معركة قلعة

- بهم تفسر
- ١- قيام الدولة بانفس المفاطخ الضاعية ١/٢
وذلك لتطوير الزراعة وزيادة المصاوغ - تشغيل الريمى لعامله والقضاء على البطالة
- زيادة الصادرات والمصوغ على المملات الاجنبية - زيادة الدخل القومي .
 - ٢- معدل الزيادة الطبيعية للمكان مرتفع في البيئة الزراعية (> لهم واحد)
سبب كثرة الانجاب - الزواج المبكر - تعدد الزوجات .

أحاطة السؤال الخامس لكل اختيار صحيح > لهم واحدة

- ١- كليبس ٢- الفيوم ٣- السيارات ٤- عباس الاول ٥- الصحراوية

منته مع أطوب التهنيتات

العبد المذنب
محمد عبد الله

السيد رماي عبد الله

مدرسة / حارة ارميه



(١٠ - ٥٠)

السؤال الأول : -

(أ) أمامك خريطة صماء لمصر
اكتب مدلول الأرقام عليها :

- ١ - جبل
- ٢ - البحر
- ٣ - حقل منجنيز
- ٤ - محمية
- ٥ - منخفض

(١٠ - ٥٠)

السؤال الثاني : -

(أ) أكمل العبارات الآتية :

- ١- تصل مياه نهر النيل إلى منخفض الفيوم عن طريق ترعة
 - ٢ - تبلغ مساحة البيئة الصحراوية حوالي من جملة مساحة مصر .
 - ٣ - تنتشر الشعاب المرجانية في مناطق متفرقة على ساحل
- (ب) ما النتائج المترتبة على ؟
- ١- ضعف دولة المماليك .
 - ٢- تأميم شركة قناة السويس سنة ١٩٥٦ م.

(١٠ - ٥٠)

السؤال الثالث : -

ضع علامة (√) أمام العبارة الصحيحة وعلامة (×) أمام العبارة غير الصحيحة
فيما يأتي :

- ١- توجد حدود فاصلة بين البيئات المصرية . ()

- ٢ - يتسم السهل الساحلي على خليج العقبة بالضيق . ()
- ٣ - المدينة المليونية هي التي يزيد عدد سكانها على ١٠٠٠٠٠ نسمة . ()
- ٤ - ضمت الحملة الفرنسية مجموعة من العلماء والرسامين والكتاب . ()
- ٥ - تدخلت الدول الكبرى وصدر قرار مجلس الأمن الدولي رقم ٣٤٠ بوقف إطلاق النار ووافقت عليه كل من مصر وإسرائيل . ()

السؤال الرابع : -

(١٠ - ٥٠)

(أ) اكتب المصطلح الجغرافي لكل عبارة من العبارات الآتية :-

- ١ - تجمعات من الرمال تأخذ أشكالاً مختلفة وتنتشر في الصحاري .
 - ٢ - تحويل المادة الخام إلى سلع ومنتجات .
- (ب) لمن تنسب الأعمال الآتية ؟
- ١ - عقد اتفاقية العريش مع العثمانيين سنة ١٨٠٠ م .
 - ٢ - أسس جريدة اللواء سنة ١٩٠٠ م .
 - ٣ - قاد تنظيم الضباط الأحرار الذي قام بثورة ٢٣ يوليو سنة ١٩٥٢ م .

السؤال الخامس : -

(١٠ - ٥٠)

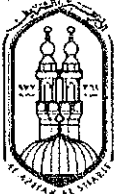
- اختر الإجابة الصحيحة مما بين الأقواس فيما يأتي :

- ١- من الصناعات البسيطة صناعة
(السجاد اليدوي - حفظ الفاكهة - الأسمدة - الكمبيوتر)
- ٢ - تقوم صناعة حفظ التمور على أشجار
(الزيتون - المشمش - النخيل - الصبار)
- ٣- من جبال شبه جزيرة سيناء جبل
(الشايب - موسى - علب - العوينات)
- ٤ - تولى الخديوي حكم مصر سنة ١٨٦٣ م .
(عباس - سعيد - إسماعيل - توفيق)
- ٥- احتل الإنجليز القاهرة بعد هزيمة أحمد عرابي عند

(النزل الكبير - كفر الدوار - الإسكندرية - بورسعيد)

اتمتهت الأسئلة . بالتوفيق والنجاح ،،

المركز العلمي للتعليم الإلكتروني



الإدارة المركزية
لمنطقة مطروح الأزهرية
إدارة الامتحانات شئون الطلاب

(الأسئلة في ورقتين)

(الورقة الأولى)

الأزهر الشريف

منطقة مطروح الأزهرية

امتحان الشهادة الابتدائية الأزهرية

@ إدارة الامتحانات @

للعام الدراسي ١٤٣٩ / ١٤٤٠ هـ - ٢٠١٨ / ٢٠١٩ م

الزمن / ساعة ونصف

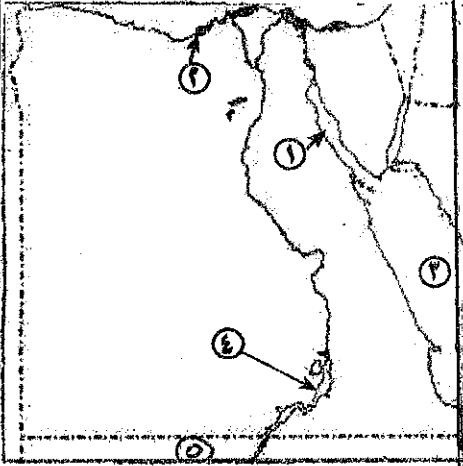
الفصل الدراسي / الأول

المادة / الدراسات الاجتماعية

أولاً : الجغرافيا :

السؤال الأول :

أ = أمامك خريطة صماء لمصر اكتب مدلول الأرقام الموقعة عليها :



١ = خليج

٢ = مدينة

٣ = البحر

٤ = بحيرة

٥ = دولة

ب = اكتب المصطلح الذي تدل عليه كل عبارة من العبارات التالية : -

١ = قناة يتم حفرها عند منسوب اقل من منسوب الترع و الأراضي الزراعية .

٢ = المناطق التي يعمل معظم سكانها بالصناعة والوظائف الخدمية .

(٦.٥ درجة)

السؤال الثاني :

أ = أكمل العبارات التالية بكلمات مناسبة : -

١ = من الخصائص التعليمية في البيئة الزراعية

٢ = عرفت مصر الصناعة حديثاً في عهد

٣ = عادة ما تظهر حول أطراف المدن .

ب = ما النتائج المترتبة على ما يلي : -

١ = الزحف العمراني على الأراضي الزراعية .

٢ = الاهتمام بالتعليم الفني والصناعي .

٣ = إقتراب الأطراف الشمالية للدلتا من البحر المتوسط .

(٦ درجات)

بقية الأسئلة بالورقة الثانية

الورقة الثانية لمادة الدراسات الاجتماعية للشهادة الابتدائية الأزهرية لامتحانات

الفصل الدراسي الأول للعام الدراسي ١٤٣٩ / ١٤٤٠ هـ — ٢٠١٨ / ٢٠١٩ م

ثانياً : التاريخ :

السؤال الثالث :

أ = ضع علامة (√) أمام العبارة الصحيحة وعلامة (×) أمام العبارة الخاطئة فيما يلي :-

- ١ = حرم المصريون من خيرات بلادهم في ظل الحكم العثماني . ()
- ٢ = يعد السد العالي من أهم مشروعات الري التي اهتم بها محمد علي . ()
- ٣ = كان للزعامة الشعبية والعلماء دوراً كبيراً في تولية محمد علي . ()
- ٤ = ازدهرت التجارة الخارجية والداخلية بمصر في عهد سعيد باشا . ()

ب = بم تفسر :-

- ١ = ازدهار الدولة المملوكية .
- ٢ = ساد الجمود والتأخر بمصر في الحياة الاقتصادية في عهد العثمانيين .

(٦,٥ درجة)

السؤال الرابع :

أ = صوب الكلمات التي فوق الخط فيما يلي :-

- ١ = نتج عن أنظمة الحكم والإدارة العثمانية تدهور الحياة الاجتماعية في مصر .
- ٢ = تولى إسماعيل باشا حكم مصر في مايو عام ١٨٠٥ م .
- ٣ = جاءت الحملة الفرنسية على مصر بقيادة فريزر عام ١٨٠٧

ب = ما النتائج المترتبة على ما يلي :-

- ١ = النظم الحربية والتقليدية للمماليك .
- ٢ = اكتشاف طريق رأس الرجاء الصالح عام ١٤٩٨ م .

(٦ درجات)

انتهت الأسئلة ،،، مع التمنيات بالنجاح